

MỤC LỤC	TRANG	
	BÀI TẬP	ĐÁP ÁN
<b>5 ĐỀ ÔN GIỮA KÌ II</b>		
ĐỀ 1	3	47
ĐỀ 2	6	47
ĐỀ 3	8	48
ĐỀ 4	9	48
ĐỀ 5	11	49
<b>15 ĐỀ ÔN CUỐI KÌ II</b>		
ĐỀ 1	14	50
ĐỀ 2	17	50
ĐỀ 3	19	51
ĐỀ 4	21	52
ĐỀ 5	23	52
ĐỀ 6	26	54
ĐỀ 7	29	54
ĐỀ 8	31	55
ĐỀ 9	33	57
ĐỀ 10	35	57
ĐỀ 11	37	59
ĐỀ 12	39	60
ĐỀ 13	41	61
ĐỀ 14	43	61
ĐỀ 15	45	62

**MA TRẬN ĐỀ KIỂM TRA ĐỊNH KÌ GIỮA HỌC KÌ 2  
MÔN TOÁN LỚP 3**

Mạch nội dung	Số câu và số điểm	Mức 1		Mức 2		Mức 3		Mức 4		Tổng	
		TN	TL	TN	TL	TN	TL	TN	TL	TN	TL
1.Số học	Số câu	2		2	6				1	4	7
	Số điểm	1đ		1đ	3đ				1đ	2đ	4đ
2.Đại lượng và đo đại lượng	Số câu	2								2	
	Số điểm	1đ								1đ	
3.Yếu tố hình học	Sô câu			1						1	
	Số điểm			0,5đ						0,5đ	
4. Giải toán có lời văn	Số câu					1	1			1	1
	Số điểm					0,5đ	2đ			0,5đ	2đ
Tổng	Sô câu	4		8		2		1		8	8
	Số điểm	2đ		4,5đ		2,5đ		1đ		4đ	6đ

## ĐỀ SỐ 1

### PHẦN I: (4 điểm) TRẮC NGHIỆM

Khoanh vào chữ đặt trước câu trả lời đúng:

1. (0,5 điểm) Số 5175 đọc là: (M1)

- A. Năm nghìn một trăm bảy mươi lăm.      C. Năm nghìn một trăm bảy mươi năm.  
B. Năm nghìn một trăm bảy lăm.      D. Năm mươi một nghìn bảy mươi lăm.

2. (0,5 điểm) Số lẻ liền sau của số 7409 là : (M2)

- A. 7407      B. 7408      C. 7410      D. 7411

3. (0,5 điểm) Tính giá trị của biểu thức:  $368 + 1252 : 4$  (M2)

- A. 738      B. 681      C. 348      D. 245

4. (0,5 điểm) Số 4 được viết bằng chữ số La Mã là: (M1)

- A. IIII      B. VI      C. IV      D. IX

5. (0,5 điểm) Ngày 28 tháng 5 là thứ năm. Hỏi ngày Quốc tế Thiếu Nhi của năm đó là thứ mấy? (M1)

- A. Chủ nhật      B. Thứ hai      C. Thứ ba      D. Thứ tư

6. (0,5 điểm) Một hình chữ nhật có chiều dài 98 cm, chiều rộng bằng một nửa chiều dài. Tính chu vi hình chữ nhật đó. (M2)

- A. 49cm      B. 147cm      C. 294cm      D. 392cm

7. (0,5 điểm) Đồng hồ bên chỉ mấy giờ? (M1)

- A. 3 giờ 18 phút      C. 3 giờ 82 phút  
B. 3 giờ 8 phút      D. 4 giờ kém 18 phút



8. (0,5 điểm) Có 113 lít dầu đổ đầy vào các can, mỗi can 5 lít. Vậy cần ít nhất số can là: (M3)

- A. 22 can      B. 23 can      C. 24 can      D. 25 can

### PHẦN II: (6 điểm) TỰ LUẬN

Bài 1. (2 điểm) Đặt tính rồi tính: (M2)

3246 + 3524	8251 - 5938	1207 × 4	1296 : 3
.....	.....	.....	.....
.....	.....	.....	.....
.....	.....	.....	.....
.....	.....	.....	.....

Bài 2. (1 điểm) Tìm y: (M2)

$$8 \times y = 1768 \qquad y : 7 = 1569 : 3$$

.....  
.....  
.....

**Bài 3. (2 điểm) Giải toán: (M3)**

Có 1260 quyển sách được xếp đều vào 6 thùng. Hỏi 3 thùng như thế xếp vào được bao nhiêu quyển sách?

**Bài giải**

.....  
.....  
.....  
.....  
.....  
.....  
.....

**Bài 4. (1 điểm) (M4)**

Trong một phép chia, có số chia là số lớn nhất có một chữ số, thương là số chẵn bé nhất có ba chữ số được viết từ các chữ số 1; 2 và 3 và số dư lớn nhất có thể. Tìm số bị chia của phép chia đó.

**Bài giải**

**KÌ 2**  
**MÔN TOÁN LỚP 3**


Mạch nội dung	Số câu và số điểm	Mức 1		Mức 2		Mức 3		Mức 4		Tổng	
		TN	TL	TN	TL	TN	TL	TN	TL	TN	TL
1.Số học	Số câu	1		1	1	2	1		1	4	3
	Số điểm	0,5đ		0,5đ	1đ	1,5đ	1đ		1đ	2,5đ	3đ
2.Đại lượng và đo đại lượng	Số câu	1				1				2	
	Số điểm	0,5đ				1đ				1,5đ	
3.Yếu tố hình học	Sô câu	2								2	
	Số điểm	1đ								1đ	
4. Giải toán có lời văn	Số câu				1						1
	Số điểm				2đ						2đ
Tổng	Sô câu	4		3		4		2		8	4
	Số điểm	2đ		3,5đ		3,5đ		1đ		5đ	5đ

## ĐỀ SỐ 2

### PHẦN I: (4 điểm) TRẮC NGHIỆM

**Khoanh vào chữ đặt trước câu trả lời đúng:**

- (0,5 điểm) Giá trị của chữ số 5 trong 6508 là: (M1)  
A. 5000                      B. 500                      C. 50                      D. 5
- (1 điểm) Số liền trước của số nhỏ nhất có bốn chữ số khác nhau có hàng trăm bằng 5 là: (M3)  
A. 1499                      B. 1500                      C. 1501                      D. 1502
- (0,5 điểm) Một hình tròn có đường kính là 628m. Bán kính của hình tròn đó là: (M1)  
A. 314m                      B. 314 cm                      C. 1256 cm                      D. 157cm
- (0,5 điểm) Ngày 28 tháng 5 là thứ năm. Hỏi ngày Quốc tế Thiếu Nhi của năm đó là thứ mấy? (M1)  
A. Chủ nhật                      B. Thứ hai                      C. Thứ ba                      D. Thứ tư
- (1 điểm) Khoảng thời gian từ 11 giờ 25 phút đến 1 giờ kém 20 phút chiều là : (M3)  
A. 35 phút                      B. 40 phút                      C. 75 phút                      D. 5 phút
- (0,5 điểm) Hình chữ nhật có chiều dài 9cm, chiều rộng 3cm. Chu vi hình chữ nhật đó là: (M1)  
A . 27cm                      B . 12 cm                      C . 54cm                      D . 24 cm
- (0,5 điểm) Cho  $8 \times y = 768$ ; giá trị của y là: (M2)  
A. 96                      B. 91                      C. 6144                      D. 760
- (0,5 điểm) Số cần điền vào dấu ? là: (M3)  
A. 20                      B. 5  
C. 101                      D. 105



### PHẦN II: (5 điểm) TỰ LUẬN

**Bài 1. (2 điểm) Tính giá trị của biểu thức : (M2 + 3)**

a)  $2580 : 5 + 1208$

b)  $9380 : 2 - 1416 \times 3$

.....

.....

.....

.....

.....

.....

**Bài 2. (2 điểm) Giải toán:**

Có 9 công nhân làm như nhau được 4689 sản phẩm. Hỏi 5 công nhân làm như thế được bao nhiêu sản phẩm? (M2)

**Bài giải**

.....  
.....  
.....  
.....  
.....

**Bài 3. (1 điểm)** Dưới đây là phép tính được xếp bởi các que tính và là **phép tính sai**:


$$XII + V = XV$$

Hãy đổi chỗ 1 que tính để được **phép tính đúng** và vẽ hình thể hiện phép tính đó.  
(M4)

.....  
.....

### ĐỀ SỐ 3

**Câu 1: Khoanh vào chữ đặt trước câu trả lời đúng:**

1. (0,5 điểm) Số liền trước của 3456 là:

- A. 3457                      B. 3458                      C. 3455                      D. 3454

2. (1 điểm) Ngày 29 tháng 4 năm là ngày thứ năm. Ngày 01 tháng 5 cùng năm là ngày: A. chủ nhật                      B. thứ bảy                      C. thứ sáu                      D. thứ tư

3. (0,5 điểm) Số 4 được viết bằng chữ số La Mã là:

- A. IIII                      B. VI                      C. IV                      D. IX

4. (0,5 điểm) Số lẻ liền trước của số 7409 là :

- A. 7407                      B. 7408                      C. 7410                      D. 7411

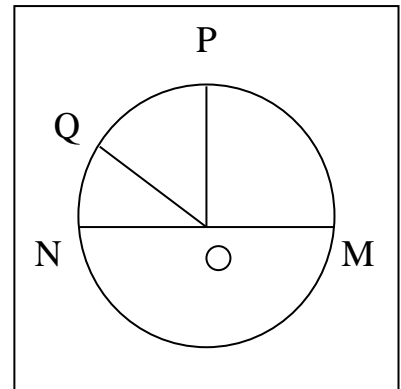
5. (0,5 điểm) Ông năm nay 63 tuổi, ba năm nữa ông sẽ gấp 6 lần tuổi cháu . Hỏi hiện nay cháu bao nhiêu tuổi?

- A. 6 tuổi                      B. 8 tuổi                      C. 10 tuổi                      D. 11 tuổi

**Câu 2: Đúng ghi Đ, sai ghi S (2 điểm)**

**Trong một hình tròn:**

- OQ là bán kính  
 MN là đường kính  
 OP là đường kính.  
 O là tâm hình tròn



**Câu 3: (2 điểm) Đặt tính rồi tính :**

$$7235 + 1968$$

$$9090 - 5775$$

$$2307 \times 3$$

$$6940 : 4$$

.....

.....

.....

.....

.....

.....

.....

.....

.....

.....

.....

.....

**Câu 4: (2 điểm) Giải toán**

Đội Một hái được 140 kg nhãn, đội Hai hái được gấp đôi đội Một. Hỏi cả hai đội hái được bao nhiêu ki-lô-gam nhãn ?

**Bài giải**

.....

.....

.....

.....

.....

**Câu 5: (1 điểm) Viết số tiếp theo của dãy số sau:**

a. 3, 3, 6, 9, 15, 24, 39, ...

b. 1, 10, 2, 9, 3, 8, ...



## ĐỀ SỐ 4

### PHẦN I: (4 điểm) TRẮC NGHIỆM

**Khoanh vào chữ đặt trước câu trả lời đúng:**

1. (0,5 điểm) Số liền sau của 6359 là:  
A. 6358                      B. 6349                      C. 6360                      D. 6369
2. (0,5 điểm) Trong các số: 8572, 7852, 5872, 8752 số lớn nhất là:  
A. 8572                      B. 8752                      C. 7852                      D. 5872
3. (0,5 điểm) Số gồm có bốn trăm, năm chục nghìn, bảy nghìn, tám đơn vị là:  
A. 57408                      B. 4578                      C. 54708                      D. 5478
4. (1 điểm) Trong cùng một năm, ngày 27 tháng 3 là thứ 5 thì ngày 30 tháng 3 là thứ mấy?  
A. Thứ sáu                      B. Thứ bảy                      C. Chủ nhật                      D. Thứ hai
5. (1 điểm) Tích của số lớn nhất có bốn chữ số và số bé nhất có hai chữ số là:  
A. 99990                      B. 89991                      C. 9999                      D. 10000
6. (0,5 điểm) Chu vi hình vuông là 20m, cạnh của hình vuông đó là:  
A. 80m                      B. 5m                      C. 4m                      D. 16m

### PHẦN II: (6 điểm) TỰ LUẬN

**Bài 1. (2 điểm) Đặt tính rồi tính:**

$$1729 + 3815$$

$$7280 - 1738$$

$$1927 \times 4$$

$$8289 : 9$$

.....	.....	.....	.....
.....	.....	.....	.....
.....	.....	.....	.....
.....	.....	.....	.....

**Bài 2. (1 điểm) Tìm Y**

a.  $4536 : Y = 9$

b.  $Y : 6 = 7 \quad (\text{dư } 3)$

.....  
.....  
.....

**Bài 3. (2 điểm) Giải toán:** Một trại gà trong 3 ngày thu được 3150 quả trứng. Hỏi trong 8 ngày như thế trại gà sẽ thu được bao nhiêu quả trứng?

**Bài giải**

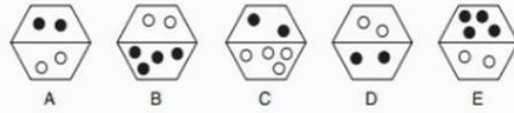
.....  
.....  
.....  
.....  
.....  
.....  
.....  
.....  
.....

**Bài 4.** (1 điểm)

Cho hình vẽ sau:



Bạn hãy tìm hình còn thiếu?



## ĐỀ SỐ 5

### PHẦN I: (4 điểm) TRẮC NGHIỆM

**Khoanh vào chữ đặt trước câu trả lời đúng:**

1. (0,5 điểm) Khoanh vào số liền trước của số: 9999?  
A. 9899                      B. 9989                      C. 9998                      D. 9889
2. (0,5 điểm) Khoanh vào số bé nhất trong dãy số: 6289, 6299, 6298, 6288?  
A. 6289                      B. 6299                      C. 6298                      D. 6288
3. (0,5 điểm) Khoanh vào kết quả đúng của  $8m\ 2dm = \dots\dots\dots dm$ ?  
A. 82 dm                      B. 802 dm                      C. 820 dm                      D. 10 dm
4. (1 điểm) Ngày 8 tháng 3 là ngày thứ ba. Vậy ngày 15 tháng 3 là ngày thứ mấy?  
A. thứ hai                      B. thứ ba                      C. thứ tư                      D. thứ năm
5. (0,5 điểm) Hình chữ nhật có chiều dài 9cm, chiều rộng kém chiều dài 3cm. Chu vi hình chữ nhật đó là:  
A . 24cm                      B . 12 cm                      C . 15cm                      D . 30cm
6. (1 điểm) Nam đi từ trường lúc 10 giờ 40 phút. Nam về đến nhà lúc 11 giờ 5 phút. Hỏi Nam đi từ trường về đến nhà hết bao nhiêu phút?  
A. 15 phút                      B. 20 phút                      C. 25 phút                      D. 40 phút

### PHẦN II: (6 điểm) TỰ LUẬN

**Bài 1. (2 điểm) Đặt tính rồi tính:**

2481 + 3479	7302 - 3796	2325 × 4	9936 : 9
.....	.....	.....	.....
.....	.....	.....	.....
.....	.....	.....	.....
.....	.....	.....	.....

**Bài 2. (1 điểm) Tìm y:**

$$Y : 3 = 1058 \text{ (dư 2)} \qquad y \times 9 = 8118$$

.....  
.....  
.....

**Bài 3. (2 điểm) Giải toán:**

Mua một gói kẹo giá 2500 đồng, một gói bánh giá 4000 đồng. Hỏi em mua 2 gói kẹo và 1 gói bánh hết tất cả bao nhiêu tiền?

**Bài giải**

.....

.....

.....

.....

.....

.....

.....

.....

**Bài 4. (1 điểm)**

Tìm một số, biết rằng lấy số đó trừ đi 463 rồi chia cho 8 thì được 482.

**Bài giải**

.....

.....

.....

.....

.....

**MA TRẬN ĐỀ KIỂM TRA CUỐI HỌC KÌ 2**  
**MÔN TOÁN LỚP 3**

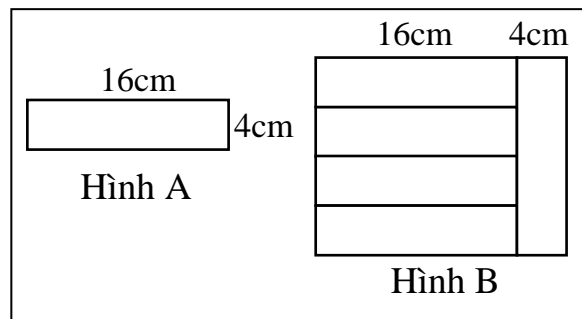
Mạch nội dung	Số câu và số điểm	Mức 1		Mức 2		Mức 3		Mức 4		Tổng	
		TN	TL	TN	TL	TN	TL	TN	TL	TN	TL
<b>1.Số học</b> (Số học và phép tính: cộng, trừ trong phạm vi 100 000; nhân, chia số có đến năm chữ số với (cho) số có một chữ số.)	Số câu	3			4	1	1		1	4	6
	Số điểm	1,5đ			2đ	0,5đ	0,5đ		1đ	2đ	3,5đ
<b>2.Đại lượng và đo đại lượng</b> ( ki- lô-gam, gam...; tiền Việt Nam.. Xem đồng hồ.)	Số câu	1				1				2	
	Số điểm	0,5đ				0,5đ				1đ	
<b>3.Yếu tố hình học</b> (chu vi và diện tích hình chữ nhật, hình vuông.)	Số câu	1				1				1	
	Số điểm	0,5đ				0,5đ				1đ	
<b>4. Giải toán có lời văn</b> (Giải bài toán rút về đơn vị)	Số câu				1	1				1	1
	Số điểm				2đ	0,5đ				0,5đ	2đ
Tổng	Số câu	5		5		5		1		8	7
	Số điểm	2,5đ		4đ		2,5đ		1đ		4,5đ	5,5đ

## ĐỀ SỐ 1

### PHẦN I: (4,5 điểm) TRẮC NGHIỆM

**Khoanh vào chữ đặt trước câu trả lời đúng:**

- (0,5 điểm) Số sáu mươi lăm nghìn không trăm chín mươi bảy viết là: (M1)  
A. 6597                      B. 65079                      C. 65097                      D. 605097
- (0,5 điểm) Giá trị của chữ số 5 trong số 50 342 là: (M1)  
A. 50                      B. 500                      C. 50000                      D. 5000
- (0,5 điểm) Tổng của số lớn nhất có 4 chữ số và số lẻ nhỏ nhất có 4 chữ số là: (M3)  
A. 11000                      B. 9999                      C. 11110                      D. 10999
- (0,5 điểm) Số 4 được viết bằng chữ số La Mã là: (M1)  
A. IIII                      B. VI                      C. IV                      D. IX
- (0,5 điểm) Ngày 28 tháng 5 là thứ năm. Hỏi ngày Quốc tế Thiếu Nhi của năm đó là thứ mấy? (M1)  
A. Chủ nhật                      B. Thứ hai                      C. Thứ ba                      D. Thứ tư
- (0,5 điểm) Cho: 2 giờ và  $\frac{1}{4}$  giờ = ... phút. Số điền vào chỗ chấm là: (M3)  
A. 120 phút                      B. 15 phút                      C. 24 phút                      D. 135 phút
- (0,5 điểm) Một hình chữ nhật có chiều rộng 5cm, chiều dài 8cm. Diện tích của hình chữ nhật đó là: (M1)  
A. 13cm                      B.  $26\text{cm}^2$                       C.  $40\text{cm}^2$                       D.  $80\text{cm}^2$
- (0,5 điểm) Biết rằng 42 cái cốc xếp đều vào 7 hộp. Hỏi cần có ít nhất bao nhiêu hộp để xếp hết 152 cái cốc? (M3)  
A. 6 cái hộp                      B. 26 cái hộp                      C. 25 cái hộp                      D. 912 cái hộp
- (0,5 điểm) Ghép 5 mảnh bìa hình chữ nhật như hình A ta được một hình chữ nhật như hình B. Tính chu vi hình chữ nhật B. (M3)  
A. 72cm                      B. 20cm  
C. 240cm                      D. 40cm



### PHẦN II: (5,5 điểm) TỰ LUẬN

**Bài 1. (2 điểm) Đặt tính rồi tính: (M2)**

32416 + 2019	82251 - 5938	12107 × 5	14626 : 6
.....	.....	.....	.....
.....	.....	.....	.....
.....	.....	.....	.....
.....	.....	.....	.....

**Bài 2. (2 điểm) Giải toán: (M2)**

Có 1260 quyển sách được xếp đều vào 6 thùng. Hỏi 8 thùng như thế xếp vào được bao nhiêu quyển sách?

**Bài giải**



**MA TRẬN ĐỀ KIỂM TRA CUỐI HỌC KÌ 2**  
**MÔN TOÁN LỚP 3**

Mạch nội dung	Số câu và số điểm	Mức 1		Mức 2		Mức 3		Mức 4		Tổng	
		TN	TL	TN	TL	TN	TL	TN	TL	TN	TL
1.Số học	Số câu	1		1	1	2	1	1	1	4	4
	Số điểm	0,5đ		0,5đ	1đ	1,5đ	1đ	0,5đ	1đ	3đ	3đ
2.Đại lượng và đo đại lượng	Số câu	1				1				2	
	Số điểm	0,5đ				0,5đ				1đ	
3.Yếu tố hình học	Sô câu	1				1				2	
	Số điểm	0,5đ				0,5đ				1đ	
4. Giải toán có lời văn	Số câu				1						1
	Số điểm				2đ						2đ
Tổng	Sô câu	4		3		4		2		8	5
	Số điểm	1,5đ		3,5đ		3,5đ		1,5đ		4,5đ	5,5đ

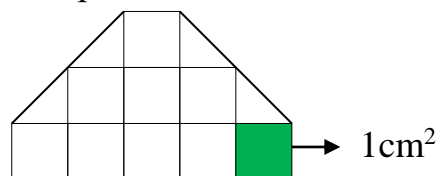


## ĐỀ SỐ 2

### PHẦN I: (4,5 điểm) TRẮC NGHIỆM

**Khoanh vào chữ đặt trước câu trả lời đúng:**

- (0,5 điểm) Số liền trước của số 32190 là: (M1)  
A. 32189                      B. 32180                      C. 32188                      D. 32200
- (1 điểm) Trong số 80634, giá trị của chữ số 8 gấp giá trị của chữ số 4 là: (M3)  
A. 2 lần                      B. 20 lần                      C. 200 lần                      D. 20000 lần
- (0,5 điểm) Kết quả của biểu thức  $3 \times (2105 + 9537)$  là: (M2)  
A. 34926                      B. 11642                      C. 6315                      D. 15852
- (0,5 điểm) Tổng của số có 4 chữ số lớn nhất và số có 3 chữ số nhỏ nhất là: (M3)  
A. 9999                      B. 100                      C. 10099                      D. 11099
- (0,5 điểm) Cho  $5m7dm = \dots dm$ . Số cần điền vào chỗ chấm là: (M1)  
A. 507                      B. 57                      C. 570                      D. 5007
- (0,5 điểm) Hình chữ nhật có chiều dài 9cm, chiều rộng 3cm. Diện tích hình chữ nhật đó là: (M1)  
A. 54cm                      B. 27 cm<sup>2</sup>                      C. 24cm<sup>2</sup>                      D. 12cm<sup>2</sup>
- (0,5 điểm) Cho 105 phút = ... .Chọn phương án thích hợp để điền vào chỗ chấm: (M3)  
A. 10 giờ 5 phút                      B. 1 giờ 5 phút  
C. 1 giờ 45 phút                      D. 1 giờ 35 phút
- (0,5 điểm) Diện tích của hình bên là: (M3)  
A. 9cm<sup>2</sup>                      B. 10cm<sup>2</sup>  
C. 11cm<sup>2</sup>                      D. 11cm<sup>2</sup>



- (0,5 điểm) Một bãi đỗ xe có 36 xe máy và ô tô con. Tổng số bánh xe của xe máy và ô tô là 100 bánh xe. Hỏi có bao nhiêu xe máy và ô tô?(M4)  
A. 22 xe máy, 14 ô tô                      B. 14 xe máy, 22 ô tô  
C. 30 xe máy, 6 ô tô                      D. 6 xe máy, 30 ô tô

### PHẦN II: (5,5 điểm) TỰ LUẬN

#### Bài 1. (2 điểm) Tìm y: (M2 + 3)

a.  $6 \times y = 1416$

.....  
.....  
.....

b.  $y : 135 = 7$  (dư 100)

.....  
.....  
.....

#### Bài 2. (2 điểm) Giải toán:

Có 27 quả dâu tây xếp đều vào 3 cái đĩa. Hỏi 198 quả dâu tây thì cần mấy cái đĩa như thế? (M2)

**Bài giải**

.....  
.....  
.....  
.....  
.....  
.....

**Bài 3. (1 điểm) Tính bằng cách thuận tiện nhất: (M4)**

a.  $4 \times 126 \times 25$

b.  $134 \times 100 + 250 \times 100 - 84 \times 100$

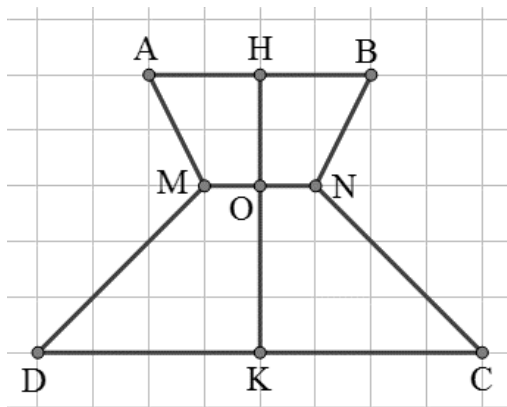
.....  
.....  
.....  
.....  
.....  
.....

### ĐỀ SỐ 3

#### I. PHẦN TRẮC NGHIỆM: (3,5 điểm)

Khoanh vào đáp án đúng:

1. Số dư của phép chia 9543 cho 8 là: (1đ)  
 a. 7                      b. 1                      c. 2                      d. 6
2. Hai số có hiệu bằng 520. Tìm số trừ, biết số bị trừ bằng 4800. (1đ)  
 a. 4280                  b. 4290                  c. 5320                  d. 4380
3. Giá trị của chữ số 7 trong số 72105 là: (0,5đ)  
 a. 7                      b. 700                      c. 7000                      d. 70000
4. Một số cộng với 23102 thì được 30108. Số đó là: (0,5đ)  
 a. 7016                  b. 7000                      c. 7006                      d. 7106
5. Trong hình vẽ dưới đây, trung điểm của đoạn thẳng AB là điểm nào? (0,5đ)



- a. Điểm M              b. Điểm K              c. Điểm H              d. Điểm O

6. Điền số thích hợp vào chỗ chấm :

1 m 9 dm 2 cm = .....cm

5 dm 8 mm = ..... mm

3 giờ 45 phút = .....phút

$\frac{1}{3}$  giờ = .....phút

#### II. PHẦN TỰ LUẬN (6,5 điểm):

1. Đặt tính và tìm kết quả .

927 – 654

206 × 4

762 : 6

.....  
 .....  
 .....  
 .....

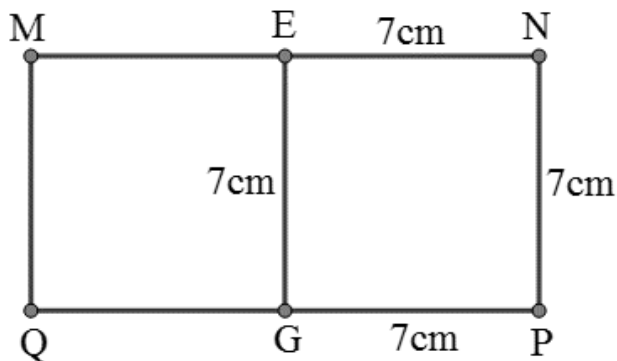
2. Tìm x :

$X \times 3 = 7356$

$X - 592 = 4605 \times 4$

.....  
 .....  
 .....

3. Cho hình chữ nhật MNPQ, E là trung điểm của MN, G là trung điểm của PQ, ENPG là hình vuông cạnh 7cm. Tính chu vi hình chữ nhật MNPQ.



.....

.....

.....

4. Một cửa hàng có 38750 kg xi măng. Lần thứ nhất cửa hàng bán được một phần năm số xi măng đó, lần thứ hai cửa hàng bán được số xi măng gấp đôi lần thứ nhất. Hỏi sau hai lần bán, cửa hàng còn lại bao nhiêu ki-lô-gam xi măng?

.....

.....

.....

.....

.....

.....

.....

.....

.....

5. Khi thực hiện một phép tính lẽ ra phải nhân số A với 6, một học sinh lại đem chia số A cho 6 và được kết quả là 25 dư 2. Hỏi kết quả đúng của phép tính là bao nhiêu?

.....

.....

.....

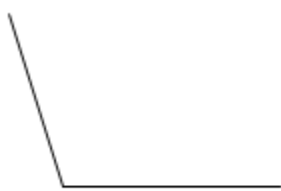
.....

.....

## ĐỀ SỐ 4

### I. PHẦN TRẮC NGHIỆM: (3,5 điểm)

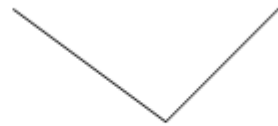
- Ngày 26 tháng 3 của một năm là thứ sáu. Hỏi thứ sáu tuần tiếp theo là ngày nào?  
a. Ngày 1 tháng 4                      b. Ngày 3 tháng 4  
c. Ngày 4 tháng 4                      d. Ngày 2 tháng 4
- Tính:  $7790 + 200$ .  
a. 7990                      b. 7890                      c. 7810                      d. 7910
- Tính:  $8000 - 4000 - 800$ .  
a. 3000                      b. 4200                      c. 3200                      d. 4000
- Tính:  $78221 + 10000$ .  
a. 79221                      b. 88221                      c. 78321                      d. 67221
- Tính diện tích hình vuông có cạnh là 3dm.  
a.  $9\text{cm}^2$                       b.  $900\text{cm}^2$                       c.  $120\text{cm}^2$                       d.  $12\text{cm}^2$
- Biết:  $x : 5 + 1483 = 2594$ . Vậy  $x = \dots\dots\dots$
- Dùng ê ke kiểm tra góc nào là góc vuông



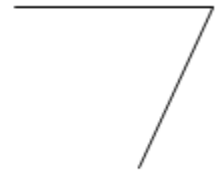
A



B



C



D

- Cháu hỏi bà: “Bà ơi, bây giờ là mấy giờ?”. Bà bảo: “Từ 12 giờ trưa đến bây giờ bằng một nửa thời gian từ bây giờ đến đêm.” ( nửa đêm là 24 giờ ).

Vậy bây giờ là :

- A. 16 giờ                      B. 14 giờ                      C. 17 giờ                      D. 18 giờ

- Đặt dấu ngoặc ( ) vào vị trí thích hợp để có những biểu thức đúng:

a)  $328 - 27 - 19 = 320$

b)  $16 + 5 \times 7 = 147$

- Điền số thích hợp vào chỗ chấm :

2 kg = .....g

8 dam = .....m

4 m 2 cm = .....cm

108 dm = .....cm = .....mm

3 năm = ..... tháng

## II. PHẦN TỰ LUẬN (6,5 điểm):

1. Đặt tính rồi tính :

$7236 + 4835$

$57191 - 46233$

$3728 \times 5$

$7206 : 6$

.....  
.....  
.....  
.....  
.....  
.....

2. Tìm x.

a)  $x + 2038 = 7129$

b)  $4627 : x = 7$

.....  
.....  
.....

3. Một nhà kho chứa 23785 kg gạo. Họ đã bán được  $\frac{1}{5}$  số gạo đó. Hỏi cửa hàng còn lại bao nhiêu ki-lô-gam gạo?

.....  
.....  
.....  
.....  
.....  
.....  
.....  
.....

4. Biết Dương hái được 12 quả táo. Hỏi An hái được bao nhiêu quả táo biết cả hai bạn hái được số táo gấp 3 lần số táo mà Dương đã hái được?

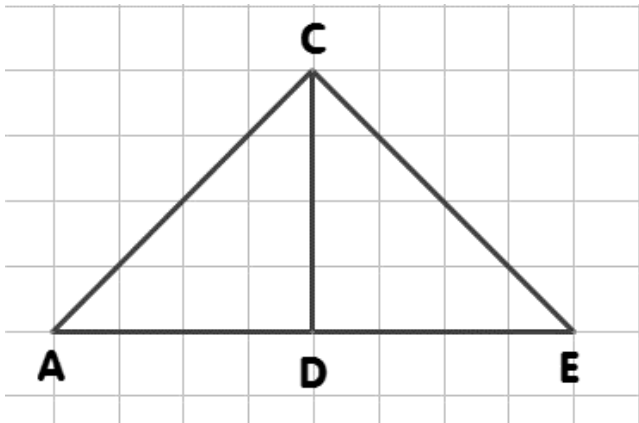
.....  
.....  
.....  
.....  
.....

## ĐỀ SỐ 5

### I. PHẦN TRẮC NGHIỆM: (4 điểm)

#### Bài 1: Khoanh vào chữ cái đặt trước câu trả lời đúng:

- Giá trị của chữ số 6 trong số 1672 là:  
a. 6                      b. 6000                      c. 60                      d. 600
- Viết “lớn hơn, bé hơn, bằng” thích hợp vào chỗ chấm sau: “Diện tích hình tam giác ACD ..... diện tích hình tam giác ECD”.



- A. bé hơn                      B. lớn hơn                      C. bằng
- Có 85 bông hoa cắm đều vào 5 lọ hoa. Hỏi 2 lọ hoa đó có bao nhiêu bông hoa?  
A. 51 bông                      B. 34 bông                      C. 30 bông                      D. 17 bông
  - Số XIX đọc là:  
A. Hai mươi một                      B. Mười chín                      C. Mười                      D. Năm
  - Số bé nhất trong các số sau là:  
A. 76 895                      B. 89675                      C. 78695                      D. 85796
  - Ngày giải phóng miền Nam 30/4 năm nay là thứ hai. Hỏi ngày thành lập Đội Thiếu niên Tiền phong Hồ Chí Minh 19/5 năm nay là thứ mấy  
A. Thứ ba                      B. Thứ năm                      C. Chủ nhật                      D. Thứ bảy
  - 3kg 895g ..... 3900g. Dấu điền vào chỗ chấm là:  
A. <                      B. =                      C. >                      D. Không có
  - Số gồm 5 nghìn, 19 trăm, 3 chục và 27 đơn vị viết là:  
A. 519327                      B. 51957                      C. 6957                      D. 69327
  - Tính diện tích hình vuông có cạnh là 3dm.  
A. 900cm<sup>2</sup>                      B. 12cm<sup>2</sup>                      C. 120cm<sup>2</sup>                      D. 9cm<sup>2</sup>

#### Bài 2: Điền số thích hợp vào chỗ chấm

- Một năm thường có 365 ngày. Năm đó gồm ..... tuần lễ và ..... ngày

2. Trong phép chia có thương là 9, số chia là 5, số dư là số dư lớn nhất thì số bị chia là:.....

3. Số thích hợp điền vào ô trống là.....

$$\begin{array}{r} 16\boxed{6} \\ \times \quad 4 \\ \hline 6744 \end{array}$$

4. Tổng của số nhỏ nhất có năm chữ số khác nhau với số liền trước số đó là .....

**Bài 3: Đúng ghi Đ, sai ghi S**

1. Đường kính hình tròn gấp đôi bán kính

2. Muốn tính chu vi hình chữ nhật ta lấy chiều dài nhân với chiều rộng (cùng đơn vị đo)

**II. TỰ LUẬN (6 điểm)**

**Bài 1: Đặt tính rồi tính (2 điểm)**

$42607 + 17513$	$63594 - 29086$	$12043 \times 7$	$42907 : 5$
.....	.....	.....	.....
.....	.....	.....	.....
.....	.....	.....	.....
.....	.....	.....	.....

**Bài 2: Tìm y (1 điểm)**

$y \times 8 = 1656$

$y - 1318 = 549 : 9$

.....

.....

.....

**Bài 3: Tính giá trị biểu thức (1 điểm)**

a)  $(247 + 752) : 9$

b)  $204 \times 5 - 850$

.....

.....

.....

**Bài 4:** Mai có 24000 đồng thì vừa đủ mua 3 quyển vở. Hỏi nếu Mai muốn mua 9 quyển vở như thế thì phải trả bao nhiêu tiền? (1,5 điểm)

Bài giải

.....

.....



.....  
.....  
.....  
**Bài 6:** Một hình chữ nhật có chiều dài 16m, chiều rộng 8m. Tính độ dài một cạnh của một hình vuông có chu vi bằng chu vi của hình chữ nhật đó. (0,5 điểm)

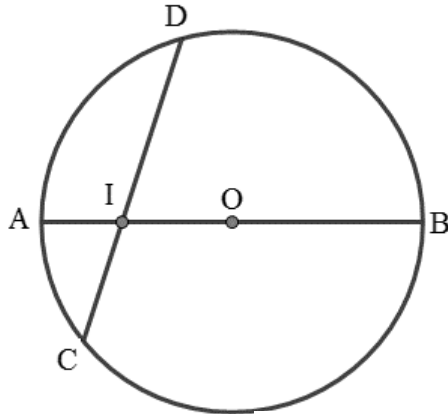
.....  
.....  
.....  
.....  
.....  
.....  
.....  
.....  
.....  
.....

## ĐỀ SỐ 6

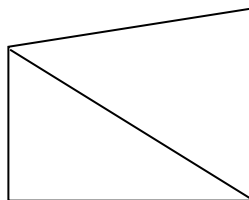
### I. PHẦN TRẮC NGHIỆM: (4 điểm)

**Bài 1: Khoanh vào chữ cái đặt trước câu trả lời đúng:**

- Giá trị của chữ số 7 trong số 78695 là  
A. 7                                      B. 700                                      C. 7000                                      D. 70000
- Số liền trước số bé nhất có năm chữ số là:  
A. 10000                                      B. 9999                                      C. 10001                                      D. 10234
- Quan sát hình vẽ dưới đây và cho biết trung điểm của đoạn thẳng AB là điểm nào?



- A. Điểm I                                      B. Điểm C                                      C. Điểm D                                      D. Điểm O
- Một số chia cho 7 thì được 10311. Tìm số đó.  
A. 71177                                      B. 72277                                      C. 71277                                      D. 72177
  - Số gồm 7 chục nghìn, 5 nghìn, 2 trăm, 3 chục và 1 đơn vị viết là:  
A. 75231                                      B. 75312                                      C. 75321                                      D. 75132
  - Ngày Quốc tế Lao động 1/5 là thứ ba. Hỏi ngày thứ ba cuối cùng của tháng đó là ngày nào  
A. 22/5                                      B. 29/5                                      C. 30/5                                      D. 31/5
  - Diện tích hình vuông là  $64\text{cm}^2$ . Chu vi hình vuông đó là:  
A. 16cm                                      B. 8cm                                      C. 32cm                                      D.  $32\text{cm}^2$
  - Số góc vuông và góc không vuông trong hình dưới đây lần lượt là :



- A. 3 và 6                                      B. 2 và 5                                      C. 2 và 6                                      D. 3 và 4

**Bài 2. Đúng ghi Đ, sai ghi S**

1. Số VIII đọc là mười ba

2. Số lớn nhất có năm chữ số khác nhau là 98765

**Bài 3. Điền vào chỗ chấm**

1. Số thích hợp để điền vào ô trống là.....

$$\begin{array}{r}
 234\boxed{\phantom{0}} \\
 \times \phantom{0}3 \\
 \hline
 7038
 \end{array}$$

2. Điền dấu (> ; < ; =) thích hợp vào chỗ chấm:

4m 9dm.....49dm

;

7m 7cm.....770cm

$\frac{1}{4}$  của 32m.....45dm

;

2giờ.....110 phút

**II. TỰ LUẬN (6 điểm)**

1. Đặt tính rồi tính:

58427 + 40753

81981 – 45245

11304 × 7

6085 : 5

.....	.....	.....	.....
.....	.....	.....	.....
.....	.....	.....	.....
.....	.....	.....	.....
.....	.....	.....	.....

2. Tính giá trị biểu thức

a)  $1812 - 179 \times 3 = \dots\dots\dots$  b)  $(2112 + 2188) : 5 = \dots\dots\dots$

= .....

= .....

3. Tìm x

a)  $x - 636 = 5618$

b)  $x : 5 = 1145$

.....	.....
.....	.....

4. Một hình chữ nhật có chiều dài 40cm, chiều rộng bằng  $\frac{1}{4}$  chiều dài. Tính diện tích hình chữ nhật đó.

.....

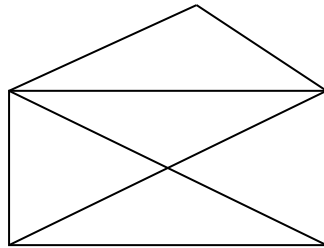
.....

.....

.....  
.....  
.....  
**5.** Cô giáo mua 25 hộp bánh, mỗi hộp có 4 cái bánh. Số bánh này cô đem đều cho các bạn, mỗi bạn được 2 cái bánh. Hỏi có bao nhiêu bạn được nhận bánh?

.....  
.....  
.....  
.....  
.....  
.....

**6.** Hình vẽ dưới đây có .....hình tam giác, có.....đoạn thẳng.



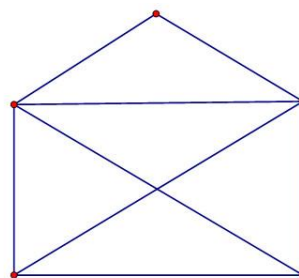
## ĐỀ SỐ 7

### I. PHẦN TRẮC NGHIỆM: (4 điểm)

- Tháng 2 của một năm có 5 ngày chủ nhật. Hãy cho biết các ngày chủ nhật trong tháng 2 của năm đó là các ngày bao nhiêu của tháng?  
A. Các ngày 3, 10, 17, 24, 31  
B. Các ngày 1, 8, 15, 22, 29  
C. Các ngày 2, 9, 16, 23, 30  
D. Các ngày 1, 7, 14, 21, 28
- Số 6 được viết bằng chữ số La Mã là:  
A. VI  
B. IV  
C. VII  
D. VIII
- Tính:  $35 + 4515 : 5$ .  
A. 128  
B. 938  
C. 821  
D. 910
- Một số chia cho 2 được bao nhiêu rồi cộng thêm 5 thì được 38905. Tìm số đó.  
A. 76802  
B. 77800  
C. 67802  
D. 66802
- Tính diện tích hình vuông có cạnh là 3dm.  
A.  $900\text{cm}^2$   
B.  $9\text{cm}^2$   
C.  $12\text{cm}^2$   
D.  $120\text{cm}^2$

6. Hình bên có bao nhiêu hình tam giác, bao nhiêu hình tứ giác?

- 9 hình tam giác, 3 hình tứ giác
- 5 hình tam giác, 4 hình tứ giác
- 5 hình tam giác, 5 hình tứ giác
- 9 hình tam giác, 4 hình tứ giác



7. Viết các số 72356; 76948 ; 67532; 76532 theo thứ tự :

a. Từ bé đến lớn:.....

b. Từ lớn đến bé:.....

8. Cho dãy số: 9; 58; 246; 1125; 1107. Số bé nhất trong dãy bằng một phần mấy số lớn nhất trong dãy. Đáp số.....

9. Hiệu của số lớn nhất có năm chữ số và số liền trước số lớn nhất có ba chữ số là.....

### II. TỰ LUẬN (6 điểm)

1. Đặt tính rồi tính:

$$17386 + 46540$$

$$56732 - 44528$$

$$11615 \times 6$$

$$65305 : 5$$

.....  
.....  
.....  
.....

2. Tìm x

a)  $x - 592 = 10375$

b)  $x \times 3 = 1806$

.....  
.....  
.....  
.....

$$c) x : 8 = 123 \text{ ( dư 3)}$$

$$d) (x - 4) \times 8 = 6400$$

.....

.....

.....

.....

.....

**3.** Có 72 kg gạo đựng đều trong 9 thùng. Hỏi 40 kg gạo thì đựng đều trong bao nhiêu thùng như thế?

.....

.....

.....

.....

.....

.....

.....

**4.** Một khu đất hình chữ nhật có diện tích  $342 \text{ m}^2$ , chiều rộng  $9\text{m}$ . Tính chu vi khu đất đó.

.....

.....

.....

.....

.....

.....

.....

**5.** Tính nhanh

a)  $3416 + 1025 + 6584 =$  .....

.....

.....

b)  $15 \times 2 + 15 \times 3 + 15 \times 5 =$  .....

.....

.....

## ĐỀ SỐ 8

### I. PHẦN TRẮC NGHIỆM: (4 điểm)

1. Số “ba nghìn tám trăm linh lăm” được viết là:

- a. 3850                      b. 3508                      c. 3805                      d. 3085

2. Số gồm 3 nghìn, 4 trăm, 6 đơn vị viết là:

- a. 3460                      b. 4306                      c. 3046                      d. 3406

3. Hai số có hiệu bằng 520. Tìm số trừ, biết số bị trừ bằng 4800.

- a. 4180                      b. 4380                      c. 4280                      d. 4480

4. Dũng có 12 viên bi, Toàn có số viên bi gấp 3 lần số viên bi của Dũng. Hỏi hai bạn có tất cả bao nhiêu viên bi?

- a. 50 viên bi                      b. 48 viên bi                      c. 51 viên bi                      d. 54 viên bi

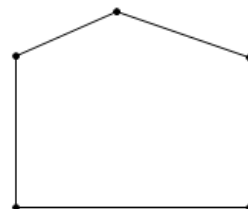
5. Một số chia cho 4 thì được 24225. Tìm số đó.

- a. 96800                      b. 97000                      c. 96900                      d. 96000

6. Có 360 quyển sách xếp đều vào 2 tủ, mỗi tủ có 6 ngăn. Mỗi ngăn có số sách như nhau thì số sách của mỗi ngăn là:.....

7. Số góc vuông trong hình vẽ bên là:

- A. 2                                      C. 4  
B. 3                                      D. 5

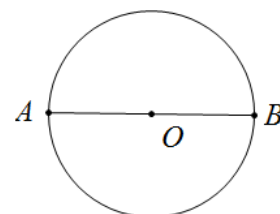


8. Cho đường tròn tâm O, hãy viết tên đoạn thẳng vào chỗ trống (...)

- Bán kính : .....

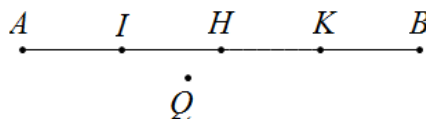
- Đường kính : .....

- O là trung điểm của : .....



9. Trong hình dưới đây trung điểm của đoạn thẳng AB là :

- a. điểm I                      b. điểm H                      c. điểm K                      d. điểm Q



### II. TỰ LUẬN (6 điểm)

1. Đặt tính rồi tính :

$$14754 + 23680$$

$$15840 - 8795$$

$$12936 \times 3$$

$$45678 : 3$$

.....  
.....  
.....  
.....  
.....

2. Tính giá trị biểu thức :

$$15840 + 7932 \times 5$$

$$(15786 - 13982) \times 3$$

3. Tìm X

$$X : 8 = 3721$$

$$24860 : X = 5$$

4. Một ô tô đi trong 5 giờ thì được 225 km. Hỏi ô tô đi trong 3 giờ thì được bao nhiêu ki-lô-mét ?

5. Một thửa ruộng hình chữ nhật có chiều rộng 8m, chiều dài gấp 3 lần chiều rộng. Tính diện tích thửa ruộng đó ?

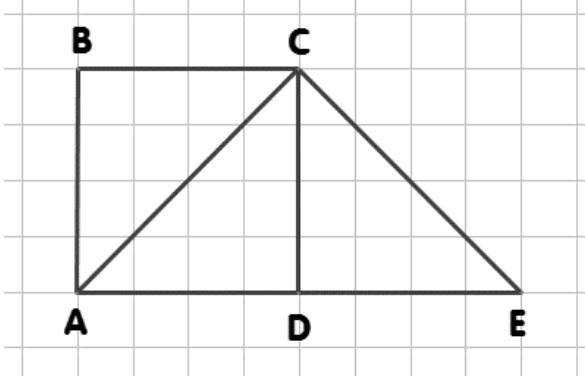
6. Một gói kẹo giá 2800 đồng, một gói bánh giá 3400 đồng. Hỏi Thắm mua 2 gói kẹo và 1 gói bánh hết bao nhiêu tiền?



## ĐỀ SỐ 9

### I. PHẦN TRẮC NGHIỆM: (4 điểm)

- Bảy mươi sáu nghìn không trăm năm mươi một viết là :  
A. 706011                      B. 7060101                      C. 76051
- Giá trị của chữ số 9 trong số 39205 là :  
A. 900                      B. 9000                      C. 90000
- Số lớn nhất có 5 chữ số là :  
A. 99000                      B. 98999                      C. 99999
- Diện tích của miếng bìa hình vuông có cạnh là 9 cm là :  
A.  $81 \text{ cm}^2$                       B.  $18 \text{ cm}^2$                       C.  $36 \text{ cm}^2$
- Giá trị của biểu thức  $6 + 14 \times 5$   
A. 100                      B. 76                      C. 240                      D. 86
- Cho  $5 \text{ m } 2 \text{ cm} = \dots\dots\dots\text{cm}$ . Số thích hợp để điền vào chỗ chấm là :  
A. 52                      B. 500                      C. 200                      D. 502
- Có hai thùng đựng dầu, mỗi thùng đựng 1248 lít dầu. Hỏi cả hai thùng đựng tất cả bao nhiêu lít dầu?  
A. 2469 lít                      B. 2496 lít                      C. 2468 lít                      D. 2486 lít
- Tính:  $12\text{cm}^2 - 5\text{cm}^2$ .  
A.  $6\text{cm}^2$                       B. 7                      C.  $7\text{cm}^2$                       D.  $9\text{cm}^2$
- Viết “lớn hơn, bé hơn, bằng” thích hợp vào chỗ chấm sau: “Diện tích hình tứ giác ABCD ..... diện tích hình tứ giác ABCE.”



- A. lớn hơn                      B. bằng                      C. bé hơn
10. Số thích hợp điền vào ô trống sau là:.....

$$\begin{array}{r} 16\boxed{6} \\ \times \quad 4 \\ \hline 6744 \end{array}$$

## II. TỰ LUẬN (6 điểm)

### 1. Đặt tính rồi tính:

$27684 + 5023$

$84091 - 1735$

$15407 \times 8$

$16856 : 7$

.....

.....

.....

.....

.....

.....

.....

### 2. Tính giá trị của biểu thức:

a.  $7625 - 625 : 5 = \dots\dots\dots$

$= \dots\dots\dots$

b.  $(35281 + 51645) : 2 = \dots\dots\dots$

$= \dots\dots\dots$

3. Một vòi nước chảy vào bể trong 5 phút chảy được 120 lít nước. Hỏi trong 8 phút vòi nước đó chảy vào bể được bao nhiêu lít nước (Số lít nước chảy vào bể trong mỗi phút đều như nhau)

#### Bài giải

.....

.....

.....

.....

.....

4. Bạn Vy vào một cửa hàng mua nhãn vở hết 12000 đồng, mua giấy màu hết 25000 đồng. Khi thanh toán, Vy đưa cho cô bán hàng 50000 đồng. Hỏi cô bán hàng phải trả lại Vy bao nhiêu tiền?

.....

.....

.....

.....

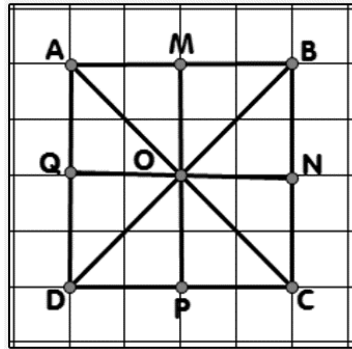
5. Điền dấu phép tính (+, -, ×, ÷) thích hợp vào ô trống để được biểu thức có giá trị bằng 80

$12 \square 6 \square 8 = 80$

## ĐỀ SỐ 10

### I. PHẦN TRẮC NGHIỆM: (4 điểm)

1. Trong hình vẽ dưới đây, trung điểm của đoạn thẳng CD là điểm nào?



- A. Điểm P                      B. Điểm O                      C. Điểm M                      D. Điểm Q

2. Số “ba nghìn tám trăm linh năm” được viết là:

- A. 3508                      B. 3805                      C. 3085                      D. 3850

3. Có tất cả 64 cái quạt trần được lắp vào các phòng học với số lượng như nhau. Đã lắp 20 cái quạt trần vào 5 phòng học. Hỏi còn lắp được thêm mấy phòng học?

- A. 9 phòng                      B. 8 phòng                      C. 11 phòng                      D. 10 phòng

4. Tính:  $34569 : 3 = ?$

- A. 11523                      B. 12123                      C. 10143                      D. 11433

5. Điền số thích hợp vào ô trống:

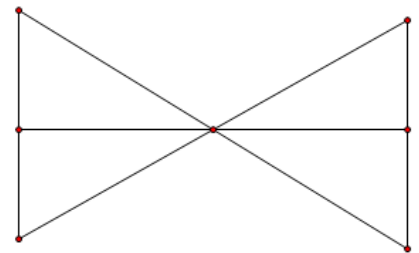
$\frac{1}{3}$  của 24kg là: ..... ;                      2 giờ 5 phút = .....phút

4m 4cm = .....cm ;                      2000g = ..... kg

6. Điền số thích hợp vào chỗ chấm :

Hình bên có ..... hình tam giác

..... góc vuông



7. Khoảng thời gian từ 2 giờ 10 phút đến 3 giờ kém 25 phút là:

- A. 20 phút                      B. 25 phút                      C. 35 phút                      D. 40 phút

8. Mua 2kg gạo hết 18000 đồng. Vậy mua 5kg hết số tiền là:

- A. 35000 đồng                      B. 40000 đồng                      C. 45000 đồng                      D. 50000đồng

## II. TỰ LUẬN (6 điểm)

1. Đặt tính rồi tính:

$81918 - 45245$

$2645 \times 8$

$32606 + 4856$

$67280 : 7$

.....  
.....  
.....  
.....  
.....  
.....

2. a) Tính giá trị biểu thức

$476 + 1048 : 4 = \dots\dots\dots 126 \times 7 - 3165 : 5 = \dots\dots\dots$   
 $= \dots\dots\dots = \dots\dots\dots$

b) Tìm  $x$ :

$x - 636 = 5618$

$1508 : x = 4$

.....  
.....

3. Một người đi xe đạp trong 15 phút đi được 3 km. Nếu xe đạp đi đều như vậy trong 25 phút thì đi được bao nhiêu ki-lô-mét ?

.....  
.....  
.....

4. Nhà bác Minh có 3 bao gạo, mỗi bao nặng 115kg. Bác bán đi 200kg gạo. Hỏi nhà bác Minh còn bao nhiêu ki-lô-gam gạo?

.....  
.....  
.....  
.....  
.....

5. Chia số A cho 7 dư 5. Hỏi số bị chia phải thay đổi như thế nào để phép chia không dư (số chia vẫn giữ nguyên).

.....  
.....  
.....

## ĐỀ SỐ 11

### I PHẦN TRẮC NGHIỆM:

- Năm mươi bốn nghìn hai trăm tám mươi bảy được viết là:  
A. 54827                      B. 54728                      C. 5420087                      D. 54287
- Thứ tự các số: 68932 ; 8459 ; 99555 ; 99655 được xếp từ bé đến lớn là;  
A. 68 932 ; 8459 ; 99555 ; 99655                      B. 8459 ; 68932 ; 99555 ; 99655  
C. 99655 ; 99555 ; 68932 ; 8459                      D. 8 459 ; 68932 ; 99655 ; 99555
- Trong chuồng có 24 con gà và 8 con vịt. Số con vịt bằng mấy phần số con gà?  
A. 3                              B.  $\frac{1}{24}$                               C.  $\frac{1}{8}$                               D.  $\frac{1}{3}$
- Mẹ mua cho Lan chiếc cặp giá 15000 đồng và một bộ quần áo mùa hè giá 20000 đồng. Mẹ đưa cô bán hàng 50000 đồng. Hỏi cô bán hàng phải trả lại mẹ bao nhiêu tiền ?  
A. 10000 đồng                      B. 17000 đồng                      C. 20000 đồng                      D. 15000 đồng
- Số 17 và số 14 được viết dưới dạng số La Mã là:  
A. XVII và XIII                      B. XVI và XIV                      C. XVII và XIV                      D. XIII và XVI
- Chủ nhật tuần này là ngày 13 tháng 4. Hỏi chủ nhật tuần sau là ngày nào?  
a. Ngày 22 tháng 4                      b. Ngày 19 tháng 4  
c. Ngày 21 tháng 4                      d. Ngày 20 tháng 4
- Một số chia cho 5 thì được 10254. Số đó là:  
a. 50270                      b. 50250                      c. 51250                      d. 51270
- Số lớn nhất có bốn chữ số mà tổng các chữ số của số đó bằng 32 là.....
- Một hình chữ nhật có chiều dài 16m, chiều rộng 8m. Tính cạnh của một hình vuông có chu vi bằng chu vi hình chữ nhật đó. Đáp số:.....

### II. TỰ LUẬN

1. Đặt tính rồi tính:

$$35047 - 2870$$

$$54065 + 798$$

$$4289 : 7$$

.....

.....

.....

.....

.....

2. Tính giá trị biểu thức :

$$239 + 1267 \times 3$$

$$2505 : ( 403 - 398 )$$

.....

.....

.....

.....  
3. Tính diện tích và chu vi hình chữ nhật có chiều dài là 3dm, chiều rộng là 9cm.

Bài giải

.....  
.....  
.....  
.....  
.....  
.....

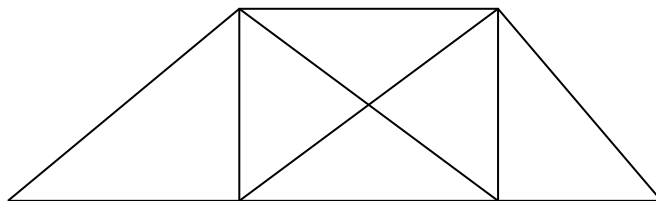
8. Một cửa hàng ngày đầu bán được 120m vải, ngày thứ hai bán được bằng  $\frac{1}{3}$  số mét vải trong ngày đầu. Hỏi cửa hàng đã bán được bao nhiêu mét vải trong 2 ngày ?

Bài giải

.....  
.....  
.....  
.....  
.....  
.....  
.....  
.....  
.....

9. Trong hình dưới đây có :.....hình tam giác;

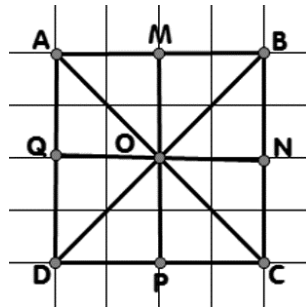
có :.....hình tứ giác.



## ĐỀ SỐ 12

### PHẦN I. TRẮC NGHIỆM KHÁCH QUAN

1. Tính:  $3000 + 5000$ .  
 a. 5300                      b. 3500                      c. 8000                      d. 5030
2. Tìm x, biết:  $3560 : x = 5$ .  
 a.  $x = 721$                       b.  $x = 712$                       c.  $x = 711$                       d.  $x = 713$
3. Có 7 hộp kẹo như nhau chứa tổng cộng 56 viên. Hỏi mỗi hộp có bao nhiêu viên kẹo?  
 a. 8 viên                      b. 7 viên                      c. 6 viên                      d. 9 viên
4. Một viên gạch đá hoa hình chữ nhật có chiều dài 30cm, chiều rộng 20cm. Tính diện tích viên gạch đá hoa đó.  
 a.  $60\text{cm}^2$                       b.  $450\text{cm}^2$                       c.  $600\text{cm}^2$                       d.  $400\text{cm}^2$
5. Giá trị của chữ số 5 trong số 51236 là:  
 a. 5000                      b. 500                      c. 50000                      d. 5
6. Ở hình dưới đây, O là trung điểm của những đoạn thẳng:.....



7. Điền số thích hợp vào chỗ chấm:

$3\text{km } 15\text{m} = \dots\dots\dots\text{m}$	$\frac{1}{4}$ giờ = .....phút
$4 \text{ kg } 12 \text{ g} = \dots\dots\dots \text{ g}$	$\frac{1}{2}$ ngày = ..... giờ

8. Tổng của số lớn nhất có bốn chữ số và số liền sau số nhỏ nhất có năm chữ số là:.....

### TỰ LUẬN (6 điểm)

1. Đặt tính và tính:

$46127 + 4356$	$64971 - 51938$	$4126 \times 3$	$6704 : 8$
.....	.....	.....	.....
.....	.....	.....	.....
.....	.....	.....	.....
.....	.....	.....	.....
.....	.....	.....	.....

2. a) Tính giá trị biểu thức

$7 + 18 \times 5$

$(127 - 52) \times 4$

$81 : 3 \times 2$

$88 + 72 : 6$

b) Tìm  $x$ :

$x \times 3 = 648$

$3816 + x = 4752$

3. 116 hộp bánh chia đều vào 4 thùng giấy. Hỏi cần phải có bao nhiêu hộp bánh để cho đầy vào 6 thùng giấy? (Biết sức chứa của mỗi thùng là như nhau)

Bài giải

4. Chương trình “*Gặp nhau cuối năm*” trong ngày đầu ra mắt bán được 2961 vé.

Ngày thứ hai bán được  $\frac{1}{3}$  số vé của ngày thứ nhất. Hỏi cả hai ngày chương trình đã

bán được bao nhiêu vé?

5. Điền dấu phép tính + ; - ;  $\times$  hoặc : vào ô trống để được phép tính đúng

a)  $5 \square 6 \square 3 = 10$

b)  $54 \square 9 \square 2 = 4$

c)  $27 \square 9 \square 3 = 15$

d)  $27 \square 9 \square 3 = 6$





a)  $2184 \times 5$

.....  
.....  
.....  
.....  
.....

b)  $5975 : 9$

.....  
.....  
.....  
.....

Vậy  $5975 : 9 = \dots\dots\dots$  (dư.....)

**8.** Xã A có 4278 người. Số dân của xã A ít hơn xã B là 428 người và nhiều hơn xã C là 245 người. Hỏi cả ba xã có tất cả bao nhiêu người?

Bài giải

.....  
.....  
.....  
.....  
.....  
.....  
.....

**9\*.** Mẹ cho Huyền 100000 đồng mua sắm dụng cụ thể thao. Vào cửa hàng, Huyền nhìn thấy một đôi giày thể thao có giá 50000 đồng, một chiếc vợt cầu lông có giá 20 000 đồng và một quả cầu lông có giá 5000 đồng.

Em hãy giúp Huyền sử dụng hết số tiền mẹ cho để mua ba loại hàng nói trên nhé!

Bài giải

.....  
.....  
.....  
.....  
.....

## ĐỀ SỐ 14\*

### PHẦN I. TRẮC NGHIỆM KHÁCH QUAN

#### 1. Điền số thích hợp vào chỗ chấm:

- a) Số 32 147 gồm .....chục nghìn, .....nghìn, .....trăm, .....chục và .....đơn vị.  
 b)  $40000 + 500 + 2 = \dots\dots\dots$   
 c) Các số tròn chục có ba chữ số nhỏ hơn 150 là .....

#### 2. Viết số thích hợp vào ô trống:

Số đã cho	6024	8367	5802	3186
Gấp 3 lần				
Giảm 3 lần				

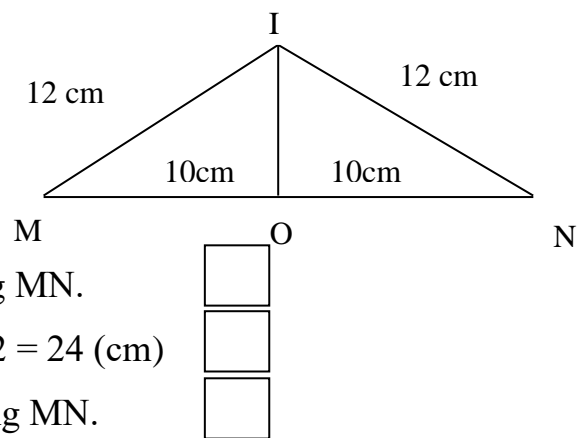
#### 3. Điền số thích hợp vào chỗ chấm:

Giá trị thích hợp của y để:

- a)  $2605 + 5 \times y = 6445$  là  $y = \dots\dots\dots$   
 b)  $4518 - (y + 1725) = 1064$  là  $y = \dots\dots\dots$

#### 4. Đúng ghi Đ, sai ghi S vào ô trống:

Trong hình bên:



- a) Điểm I là trung điểm của đoạn thẳng MN.   
 b) Độ dài đoạn thẳng MN bằng  $12 + 12 = 24$  (cm)   
 c) Điểm O là trung điểm của đoạn thẳng MN.

#### 5. Điền dấu >, < hoặc = thích hợp vào ô trống:

- a)  $6587g$    $4532g + 2275g$       b)  $406km \times 5$    $8428km : 4$   
 c)  $6546m + 1748m$    $1856m \times 4$

#### 6\*. Điền số thích hợp vào chỗ chấm:

Một cửa hàng cần chia 200kg gạo vào đủ bốn loại túi: loại túi 100kg, loại túi 50kg, loại túi 20kg và loại túi 10kg. Vậy số túi gạo mỗi loại có thể đóng được là:

- a) .....túi loại 100kg, .....túi loại 50kg, .....túi loại 20kg và .....túi loại 10kg.  
 b) Hoặc .....túi loại 100kg, .....túi loại 50kg, .....túi loại 20kg và .....túi loại 10kg.

## PHẦN II. TỰ LUẬN

### 7\*. Tính giá trị của biểu thức:

a)  $7 \times (2140 - 179) + 1484$

= ..... = ..... = .....

b)  $12864 : (24 : 6) = \dots\dots\dots = \dots\dots\dots$

### 8. Đặt một đề toán theo tóm tắt dưới đây rồi giải bài toán đó:

9 túi: 45kg gạo

Đề:

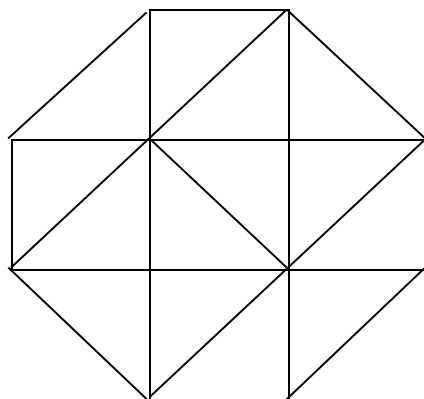
6 túi: .....kg gạo?

.....  
.....  
.....  
.....

Bài giải:

.....  
.....  
.....  
.....  
.....

9\*. Chú thợ mộc cần ghép các mảnh gỗ hình tam giác để được một mặt bàn như hình dưới.



Em hãy tính giúp chú xem cần ít nhất mấy màu khác nhau để không có hai mảnh nào liền nhau cùng màu. Em hãy ghi tên các màu vào hình để thể hiện một cách ghép cụ thể.


Bài giải:

.....  
.....  
.....

## ĐỀ SỐ 15\*

### PHẦN I. TRẮC NGHIỆM KHÁCH QUAN

#### 1. Điền số thích hợp vào ô trống:



#### 2. Điền số thích hợp vào chỗ chấm:

a)  $8000 \times 6 = \dots\dots\dots$

b)  $6000 : 2 = \dots\dots\dots$

c)  $9000 : 3 = \dots\dots\dots$

d)  $9000 \times 6 = \dots\dots\dots$

#### 3. Điền số đo thích hợp vào chỗ chấm:

a)  $128\text{cm}^2 + 5062\text{cm}^2 = \dots\dots\dots$

b)  $475\text{cm}^2 \times 8 = \dots\dots\dots$

c)  $1215\text{cm}^2 - 948\text{cm}^2 = \dots\dots\dots$

d)  $786\text{cm}^2 : 6 = \dots\dots\dots$

#### 4. Viết số thích hợp vào chỗ chấm:

a) Có .....số có bốn chữ số giống nhau, là các số .....

b) Số nhỏ nhất có bốn chữ số khác nhau mà hàng chục bằng 6 là .....

5\*. Dãy số liệu sau theo thứ tự cho ta biết khoảng cách từ Hà Nội đến các tỉnh Bạc Liêu, Cà Mau, Cao Bằng, Lai Châu, Buôn Ma Thuột: 1990km, 2057km, 272km, 402km, 1390km.

Dựa vào dãy số liệu trên, hãy điền số thích hợp vào ô trống:

**Bảng thống kê chiều dài đường bộ từ Hà Nội đi một số tỉnh**

Tên tỉnh	Bạc Liêu	Buôn Ma Thuột	Cà Mau	Cao Bằng	Lai Châu
Chiều dài (km)					

#### 6\*. Em tìm hiểu rồi điền ghi vào chỗ chấm cho thích hợp:

a) Em ghi tên các bạn tổ trưởng trong lớp em:

.....

b) Em hỏi ngày sinh của từng bạn rồi ghi lần lượt ngày sinh của các bạn theo thứ tự trong danh sách:

.....

c) Trong các bạn trên, bạn ..... là người đầu tiên có sinh nhật trong năm và bạn ..... là người cuối cùng có sinh nhật trong năm.

### PHẦN II. TỰ LUẬN

7\*. Một cửa hàng có 2480m vải hoa và 1260m vải trắng. Sau khi bán một số mét vải trắng, người bán hàng thấy rằng số mét vải hoa gấp 5 lần số mét vải trắng còn lại. Hỏi cửa hàng đã bán bao nhiêu mét vải trắng?

Bài giải:

---

---

---

---

---

---

8\*. Tìm y biết:  $18504 - y \times 8 = 544 \times 3$

---

---

---

---

9\*. Đố vui “*Quyển truyện còn bao nhiêu trang?*”

An vào một cửa hàng sách cũ. An tìm được một quyển truyện tranh dày 90 trang mà An rất thích. Khi mở sách ra xem, An thấy quyển truyện đó bị xé mất các trang 23, 48 và 85. Quyển truyện còn bao nhiêu trang? (Biết quyển truyện tranh được in hai mặt)



Bài giải:

---

---

---

---

---

---

## ĐÁP ÁN ĐỀ GIỮA KỲ

### ĐỀ SỐ 1

#### Phần 1: Trắc nghiệm

Câu	1	2	3	4	5	6	7	8
Đáp án	A	D	B	C	B	C	D	B

#### Phần 2: Tự luận

Bài 2:  $y = 221$  ;  $y = 3661$

Bài 3:

Một thùng xếp được số quyển sách là:  $1260 : 6 = 210$  (quyển)

Ba thùng xếp được số quyển sách là:  $210 \times 3 = 630$  (quyển)

Đáp số: 630 quyển sách

Bài 4:

Số chia là số lớn nhất có một chữ số, số chia là: 9

Thương là số chẵn bé nhất có 3 chữ số được viết từ chữ số 1; 2; 3, thương là: 132

Số dư lớn nhất có thể, số dư là 8

Vậy số bị chia là:  $132 \times 9 + 8 = 1196$

### ĐỀ SỐ 2

#### PHẦN I: Khoanh vào chữ cái trước câu trả lời đúng: (4 điểm)

Bài	1	2	3	4	5	6	7	8
Đáp án	B	C	A	B	C	D	A	C
Điểm	0,5đ	0,5đ	0,5đ	0,5đ	0,5đ	0,5đ	0,5đ	0,5đ

#### PHẦN II:

##### Bài 1: Đặt tính rồi tính: (2 điểm)

- Mỗi biểu thức đúng được 1 điểm

##### Bài 2 : (2 điểm)

##### Câu lời giải/ phép tính

Một công nhân làm được số sản phẩm là:

$$4689 : 9 = 521 \text{ (sản phẩm)}$$

Năm công nhân làm được số sản phẩm là:

$$521 \times 5 = 2605 \text{ (sản phẩm)}$$

Đáp số: 2605 sản phẩm

**Bài 3: (1 điểm)**

$$XI + IV = XV$$

$$XI + V = XVI$$

**Bài 4: (1 điểm)**

Ta có: 1 con ngỗng = 4 con gà

1 con lợn = 12 con ngỗng

⇒ 1 con lợn = 48 con gà

Vậy một con lợn có cân nặng khoảng:  $2 \times 48 = 96$  (kg)

**ĐỀ SỐ 3**

Câu 1:

Câu	1	2	3	4	5
Đáp án	C	B	C	A	B

Câu 2: Đ – Đ – S – Đ

Câu 4:

Đội Hai hái được số nhãn là:  $140 \times 2 = 280$  (kg)

Cả hai đội hái được số nhãn là:  $280 + 140 = 420$  (kg)

Đáp số: 420 kg nhãn

Câu 5: a. 63                      b. 4

**ĐỀ SỐ 4**

Phần I

Câu	1	2	3	4	5	6
Đáp án	C	B	A	C	A	B

Phần II

Bài 2:

a.  $Y = 504$

b.  $Y = 7 \times 6 + 3 = 45$



Bài 3:

Một ngày thu được số quả trứng là:  $3150 : 3 = 1050$  (quả)

Tám ngày thu được số quả trứng là:  $1050 \times 8 = 8400$  (quả)

Đáp số: 8400 quả trứng

## ĐỀ SỐ 5

Phần I:

Câu	1	2	3	4	5	6
Đáp án	C	D	A	B	D	C

Phần II

Bài 2:

$$Y = 1058 \times 3 + 2 = 3176$$

$$Y = 902$$

Bài 3:

Mua 2 gói kẹo hết số tiền là:  $2500 \times 2 = 5000$  (đồng)

Mua 2 gói kẹo và 1 gói bánh hết số tiền là:  $5000 + 4000 = 9000$  (đồng)

Đáp số: 9000 đồng

Bài 4:

Gọi số phải tìm là X

$$\text{Ta có: } (X - 463) : 8 = 482$$

$$X - 463 = 482 \times 8$$

$$X - 463 = 3856$$

$$X = 3856 + 463$$

$$X = 4319$$

**ĐÁP ÁN ĐỀ CUỐI KỲ**  
**ĐỀ SỐ 1**

**PHẦN I: Khoanh vào chữ cái trước câu trả lời đúng: (4 điểm)**

Bài	1	2	3	4	5	6	7	8	9
Đáp án	C	C	A	C	B	D	C	B	A

**PHẦN II:**

**Bài 1: Đặt tính rồi tính: (2 điểm)**

**Bài 2 : (2 điểm)**

**Câu lời giải/ phép tính**

Một thùng có số quyển sách là:

$$1260 : 6 = 210 \text{ (quyển)}$$

8 thùng như thế có số quyển sách là:

$$210 \times 8 = 1680 \text{ (quyển)}$$

Đáp số: 1680 quyển sách

**Bài 3:**  $X = 255$  (1đ)

**Bài 4:** (1đ) 10 quả táo

**ĐỀ SỐ 2**

**PHẦN I: Khoanh vào chữ cái trước câu trả lời đúng: (4 điểm)**

Bài	1	2	3	4	5	6	7	8	9
Đáp án	A	D	A	C	B	B	C	D	A

**PHẦN II:**

**Bài 1: Tìm y: (2 điểm)**

a.  $y = 236$

b.  $y = 1045$

**Bài 2 : (2 điểm)**

**Câu lời giải/ phép tính**

Một đĩa đựng số quả dâu tây là:

$$27 : 3 = 9 \text{ (quả)}$$

198 quả dâu tây cần số đĩa là:

$$198 : 9 = 22 \text{ (cái)}$$

Đáp số: 22 cái đĩa

**Bài 3: (1điểm)**

a. $4 \times 126 \times 25$ $= 4 \times 25 \times 126$ $= 100 \times 126$ $= 12600$	b. $134 \times 100 + 66 \times 100$ $= (134 + 66) \times 100$ $= 200 \times 100$ $= 20000$
--	---

### ĐỀ SỐ 3

#### I. PHẦN TRẮC NGHIỆM (3,5 điểm)

##### 1. a

Ta có:  $9543 : 8 = 1192$  (dư 7).

Vậy số dư của phép chia 9543 cho 8 là 7.

##### 2. a

Số trừ là:

$$4800 - 520 = 4280.$$

##### 3. d

Giá trị của chữ số 7 trong số 72105 là 70000.

##### 4. c

Số đó là:

$$30108 - 23102 = 7006.$$

##### 5. c

Trong hình vẽ, trung điểm của đoạn thẳng AB là điểm H.

##### 6. Điền số thích hợp vào chỗ chấm :

$$1 \text{ m } 9 \text{ dm } 2 \text{ cm} = 192\text{cm}$$

$$3 \text{ giờ } 45 \text{ phút} = 225\text{phút}$$

$$5 \text{ dm } 8 \text{ mm} = 508 \text{ mm}$$

$$\frac{1}{3} \text{ giờ} = 20\text{phút}$$

#### II. PHẦN TỰ LUẬN:

##### 1. Kết quả:

$$927 - 654 = 273$$

$$206 \times 4 = 824$$

$$762 : 6 = 127$$

##### 2. Tìm x :

$X \times 3 = 7356$ $X = 7356 : 3$ $X = 2452$	$X - 592 = 4605 \times 4$ $X - 592 = 18420$ $X = 18420 + 592$ $X = 19012$
---	--

##### 3

Vì E là trung điểm của MN mà  $EN = 7\text{cm}$  nên  $MN = 7 \times 2 = 14(\text{cm})$ .

Chu vi hình chữ nhật MNPQ là:

$$(7 + 14) \times 2 = 42(\text{cm})$$

Đáp số: 42cm.

##### 4

Lần thứ nhất bán được số ki-lô-gam xi măng là:

$$38750 : 5 = 7750 \text{ (kg)}$$

Lần thứ hai bán được số ki-lô-gam xi măng là:

$$7750 \times 2 = 15500(\text{kg})$$

Cả hai lần bán được số ki-lô-gam xi măng là:

$$15500 + 7750 = 23250 \text{ (kg)}$$

Cửa hàng còn lại số ki-lô-gam xi-măng là:

$$38750 - 23250 = 15500 \text{ (kg)}$$

Đáp số: 15500kg.

**5**

Số A là:

$$25 \times 6 + 2 = 152.$$

Kết quả của phép tính cần làm là:

$$152 \times 6 = 912.$$

Đáp số: 912.

## **ĐỀ SỐ 4**

### **I. PHẦN TRẮC NGHIỆM (3,5 điểm)**

**1. d**

Tháng 3 có 31 ngày, 26 tháng 3 là thứ sáu, tiếp theo các ngày trong tháng: thứ bảy là ngày 27, chủ nhật là ngày 28, thứ hai là ngày 29, thứ ba là ngày 30, thứ tư là ngày 31. Thứ năm là ngày 1 tháng 4. Vậy thứ sáu tiếp theo là ngày 2 tháng 4.

**2. a**

Ta có:  $7790 + 200 = 7990$ .

**3. c**

Ta có:

$$8000 - 4000 - 800 = 4000 - 800 = 3200.$$

**4. b**

Ta có:

$$78221 + 10000 = 88221.$$

**5. b**

Đôi:  $3\text{dm} = 30\text{cm}$ .

Diện tích hình vuông là:

$$30 \times 30 = 900 \text{ (cm}^2\text{)}$$

Đáp số:  $900\text{cm}^2$ .

**6. x = 5555.**

**7. Dùng ê ke kiểm tra góc nào là góc vuông: C**

**8. A. 16 giờ**

**9. Đặt dấu ngoặc ( ) vào vị trí thích hợp để có những biểu thức đúng:**

a)  $328 - (27 - 19) = 320$

b)  $(16 + 5) \times 7 = 147$

**10. Điền số thích hợp vào chỗ chấm :**

$2 \text{ kg} = 2000 \text{ g}$

$8 \text{ dam} = 80 \text{ m}$

$4 \text{ m } 2 \text{ cm} = 402\text{cm}$

$108 \text{ dm} = 1080 \text{ cm} = 10800 \text{ mm}$

$3 \text{ năm} = 36 \text{ tháng}$

### **II. PHẦN TỰ LUẬN (6,5 điểm):**

**1. Kết quả:**

$7236 + 4835 = 12071$

$3728 \times 5 = 18640$

$57191 - 46233 = 10958$

$7206 : 6 = 1201$

2. Tìm x.

a) $x + 2038 = 7129$ $x = 7129 - 2038$ $x = 5091$	b) $4627 : x = 7$ $x = 4627 : 7$ $x = 661$
---	--

3.

Số ki-lô-gam gạo đã bán là:

$23785 : 5 = 4757 \text{ (kg)}$

Cửa hàng còn lại số ki-lô-gam gạo là:

$23785 - 4757 = 19028 \text{ (kg)}$

Đáp số : 19028kg.

4.

Cả hai bạn hái được số quả táo là:

$12 \times 3 = 36 \text{ (quả)}$

An hái được số quả táo là:

$36 - 12 = 24 \text{ (quả)}$

Đáp số: 24 quả táo.

## ĐỀ SỐ 5

### I. PHẦN TRẮC NGHIỆM: (4 điểm)

Bài 1: Khoanh vào chữ cái đặt trước câu trả lời đúng:

Câu	1	2	3	4	5	6	7	8	9
Đáp án	D	C	B	B	A	D	A	C	A

Bài 2: Điền số thích hợp vào chỗ chấm (1 điểm)

1. Một năm thường có 365 ngày. Năm đó gồm 52 tuần lễ và 1 ngày

2. Số bị chia trong phép chia có thương là 9, số chia là 5, số dư là số dư lớn nhất có thể là 49

3. Số thích hợp điền vào ô trống là 8

$$\begin{array}{r} 16\boxed{6} \\ \times \quad 4 \\ \hline 6744 \end{array}$$

4. Tổng của số nhỏ nhất có năm chữ số khác nhau với số liền trước số đó là 20467

(Giải thích: Số nhỏ nhất có năm chữ số khác nhau là 10234, số liền trước số đó là 10233, tổng của chúng là:  $10234 + 10233 = 20467$ )

Bài 3: Đúng ghi Đ, sai ghi S (1 điểm)

1. Đ

2. S

PHẦN B: TỰ LUẬN (6 điểm)

**Bài 1:** Kết quả

$42607 + 17513 = 60120$

$63594 - 29086 = 34508$

$12043 \times 7 = 84301$

$42907 : 5 = 8581 \text{ ( dư 2)}$

**Bài 2:** Tìm  $y$  (1 điểm)

$y \times 8 = 1656$

$y - 1318 = 549 : 9$

$y = 1656 : 8$

$y - 1318 = 61$

$y = 207$

$y = 61 + 1318$

$y = 1379$

**Bài 3:** Tính giá trị biểu thức (1 điểm)

a)  $(247 + 752) : 9$

b)  $204 \times 5 - 850$

$= 999 : 9$

$= 1020 - 850$

$= 111$

$= 170$

**Bài 4:** Mai có 24 000 đồng thì vừa đủ mua 3 quyển vở. Hỏi nếu Mai muốn mua 9 quyển vở như thế thì phải trả bao nhiêu tiền? (1,5 điểm)

Bài giải

Mai mua mỗi quyển vở hết số tiền là:  $24000 : 3 = 8000$  (đồng)

Mai mua hết 9 quyển vở như thế thì phải trả số tiền là:  $8000 \times 9 = 81000$  (đồng)

Đáp số: 81000 đồng

**Bài 5:** Một hình chữ nhật có chiều dài 16m, chiều rộng 8m. Tính độ dài một cạnh của một hình vuông có chu vi bằng chu vi của hình chữ nhật đó. (0,5 điểm)

Chu vi của hình chữ nhật là:

$(16 + 8) \times 2 = 48(m)$

Chu vi của hình vuông bằng với chu vi của hình chữ nhật và bằng 48m.

Độ dài một cạnh của hình vuông là:

$48 : 4 = 12 (m)$

Đáp số: 12m.

**ĐỀ SỐ 6****I. PHẦN TRẮC NGHIỆM: (4 điểm)**

**Bài 1:** Khoanh vào chữ cái đặt trước câu trả lời đúng:

Câu	1	2	3	4	5	6	7	8
Đáp án	D	B	D	D	A	B	C	C

**II. Đúng ghi Đ, sai ghi S**

1. S

2. S

**II. Điền vào chỗ chấm**

1. Số thích hợp để điền vào ô trống là 6

$$\begin{array}{r} 234\Box \\ \times \quad 3 \\ \hline 7038 \end{array}$$

2. Điền dấu (> ; < ; =) thích hợp vào chỗ chấm:

$$4\text{m } 9\text{dm} = 49\text{dm}$$

$$7\text{m } 7\text{cm} < 770\text{cm}$$

$$\frac{1}{4} \text{ của } 32\text{m} > 45\text{dm}$$

$$2\text{giờ} > 110 \text{ phút}$$

### PHẦN B: TỰ LUẬN (6 điểm)

1. Đặt tính rồi tính:

$$58427 + 40753 = 99180$$

$$81981 - 45245 = 36736$$

$$11304 \times 7 = 79128$$

$$6085 : 5 = 1217$$

2. Tính giá trị biểu thức

a)  $1812 - 179 \times 3 =$

b)  $(2112 + 2188) : 5 =$

3. Tìm  $x$

a)  $x - 636 = 5618$

b)  $x : 5 = 1145$

$$x = 5618 + 636$$

$$x = 1145 \times 5$$

$$x = 6254$$

$$x = 5725$$

4. Chiều rộng hình chữ nhật là:  $40 : 4 = 10$  (cm)

Diện tích hình chữ nhật là:  $40 \times 10 = 400$  (cm<sup>2</sup>)

Đáp số: 400 cm<sup>2</sup>

5. 25 hộp bánh có tất cả số cái bánh là:  $25 \times 4 = 100$  (cái)

Số bạn được nhận bánh là:  $100 : 2 = 50$  (bạn)

Đáp số: 50 bạn

6. Hình vẽ dưới đây có 9 hình tam giác. Có 12 đoạn thẳng.

### ĐỀ SỐ 8

#### I. PHẦN TRẮC NGHIỆM: (4 điểm)

Câu	1	2	3	4	5
ĐÁP ÁN	C	D	C	B	C

6. Số sách của mỗi ngăn là: 30 quyển.

7. A. 2

8. - Bán kính : OA; OB  
 - Đường kính : AB  
 - O là trung điểm của : AB
9. Trung điểm của đoạn thẳng AB là : H

## II. TỰ LUẬN (6 điểm)

### 1. Tính:

$$14754 + 23680 = 38434$$

$$15840 - 8795 = 7045$$

$$12\,936 \times 3 = 38808$$

$$45\,678 : 3 = 15226$$

### 2. Tính giá trị biểu thức :

$15840 + 7932 \times 5 = 15840 + 39660$ $= 55500$	$(15786 - 13982) \times 3 = 1804 \times 3$ $= 5412$
---	---

### 3. Tìm X

$X : 8 = 3721$ $X = 3721 \times 8$ $X = 29768$	$24\,860 : X = 5$ $X = 24860 : 5$ $X = 4972$
--	--

### 4. Trong một giờ ô tô đi được số ki-lô-mét là:

$$225 : 5 = 45 \text{ (km)}$$

Trong 3 giờ thì được bao nhiêu ki-lô-mét là:

$$3 \times 45 = 135 \text{ (km)}$$

Đáp số: 135 km

### 5. Chiều dài thửa ruộng hình chữ nhật là:

$$8 \times 3 = 24 \text{ (m)}$$

Diện tích thửa ruộng hình chữ nhật là:

$$24 \times 8 = 192 \text{ (m}^2\text{)}$$

Đáp số: 192 m<sup>2</sup>

### 6. Thăm mua 2 gói kẹo và 1 gói bánh hết số tiền là:

$$(2800 \times 2) + 3400 = 9000 \text{ (đồng)}$$

Đáp số: 9000 đồng.



## ĐỀ SỐ 9

### I. PHẦN TRẮC NGHIỆM: (4 điểm)

Câu	1	2	3	4	5	6	7	8	9	10
Đáp án	C	B	C	A	B	D	B	C	C	8

### II. TỰ LUẬN (6 điểm)

#### 1. Kết quả:

$27684 + 5023 = 32707$	$15407 \times 8 = 123256$
$84091 - 1735 = 82356$	$16\ 856 : 7 = 2408$

#### 2. Tính giá trị của biểu thức:

a. $7625 - 625 : 5 = 7625 - 125$ $= 7500$	b. $(35281 + 51645) : 2 = 86926 : 2$ $= 43463$
--	---

#### 3. Bài giải

Trong 1 phút, vòi nước chảy vào bể được số lít nước là:

$$120 : 5 = 24 \text{ (lít)}$$

Trong 8 phút, vòi nước chảy vào bể được số lít nước là:

$$24 \times 8 = 192 \text{ (lít)}$$

Đáp số 192 lít

#### 4. Vy đã mua hết số tiền là:

$$12000 + 25000 = 37000 \text{ (đồng)}$$

Cô bán hàng phải trả lại Vy số tiền là:

$$50000 - 37000 = 13000 \text{ (đồng)}$$

Đáp số: 13000 đồng.

5.  $12 \times 6 + 8 = 80$

## ĐỀ SỐ 10

### II. PHẦN TRẮC NGHIỆM: (4 điểm)

1. A. Điểm P

2. B. 3805

3. C. 11 phòng

4. A. 11523

5.

$\frac{1}{3}$ của 24kg là: 8 kg	2 giờ 5 phút = 125phút
4m 4cm = 404 cm	2000g = 2 kg

6. Hình bên có 6 hình tam giác

4 góc vuông.

7. B. 25 phút

8. C. 45000 đồng

## II. TỰ LUẬN (6 điểm)

1.

$81918 - 45245 = 36673$	$2645 \times 8 = 21160$
$32606 + 4856 = 37462$	$67280 : 7 = 9611 \text{ (dư 3)}$

2.

$476 + 1048 : 4 = 476 + 262$ $= 738$	$126 \times 7 - 3165 : 5 = 882 - 633$ $= 249$
$x - 636 = 5618$ $X = 5618 + 636$ $X = 6254$	$1508 : x = 4$ $X = 1508 : 4$ $X = 377$

3. Đi 1km thì người đi xe đạp cần số phút là:

$$15 : 3 = 5 \text{ (phút)}$$

Trong 25 phút thì người đi xe đạp được số ki-lô-mét là:

$$25 : 5 = 5 \text{ (km)}$$

Đáp số: 5 km

4. Nhà bác Minh có số ki-lô-gam gạo là:

$$115 \times 3 = 345 \text{ (kg)}$$

Nhà bác Minh còn lại số ki-lô-gam gạo là:

$$345 - 200 = 145 \text{ (kg)}$$

Đáp số: 145 kg.

5. Để phép chia không dư thì ta phải bớt A đi 5 đơn vị hoặc thêm vào A 2 đơn vị.

## ĐỀ SỐ 11

### I PHẦN TRẮC NGHIỆM:

1. D. 54287
2. B. 8459 ; 68932 ; 99555 ; 99655
3. D.  $\frac{1}{3}$
4. D. 15 000 đồng
5. C. XVII và XIV
6. d. Ngày 20 tháng 4
8. d. 51270
9. Số đó là: 9995
10. Đáp số: 12 cm

### II. TỰ LUẬN

#### 1. Đặt tính rồi tính:

$35047 - 2870 = 32177$	$54\ 065 + 798 = 54863$	$4289 : 7 = 612 \text{ (dư } 5)$
------------------------	-------------------------	----------------------------------

2.

$239 + 1267 \times 3 = 239 + 3801$ $= 4040$	$2505 : (403 - 398) = 2505 : 5$ $= 501$
--	--

3.

#### Bài giải

$$\text{Đổi } 3 \text{ dm} = 30 \text{ cm}$$

Diện tích hình chữ nhật là:

$$30 \times 9 = 270 \text{ (cm}^2\text{)}$$

Chu vi hình chữ nhật là:

$$(30 + 9) \times 2 = 78 \text{ cm}$$

$$\text{Đáp số: } 270 \text{ cm}^2$$

$$78 \text{ cm}$$

4.

#### Bài giải

Ngày thứ 2 cửa hàng bán được số mét vải là:

$$120 \times \frac{1}{3} = 40 \text{ (m)}$$

Cửa hàng đã bán được số mét vải trong 2 ngày là:

$$120 + 40 = 160 \text{ (m)}$$

$$\text{Đáp số: } 160 \text{ m}$$



3. 116 hộp bánh chia đều vào 4 thùng giấy. Hỏi cần phải có bao nhiêu hộp bánh để cho đầy vào 6 thùng giấy ? (Biết sức chứa của mỗi thùng là như nhau)

Bài giải

Một thùng giấy đựng được số hộp bánh là:

$$116 : 4 = 29 \text{ (hộp)}$$

Cần số hộp bánh để cho đầy vào 6 thùng giấy là:

$$29 \times 6 = 174 \text{ (hộp)}$$

Đáp số: 174 hộp bánh

4. Ngày thứ hai bán được số vé là:

$$2961 \times \frac{1}{3} = 987 \text{ (vé)}$$

Cả 2 ngày bán được số vé là:

$$2961 + 987 = 3948 \text{ (vé)}$$

Đáp số: 3948 vé.

5.

a) $5 \times 6 : 3 = 10$	b) $54 : 9 - 2 = 4$
c) $27 - 9 - 3 = 15$	d) $27 : 9 + 3 = 6$

### ĐỀ SỐ 13

4. a) <      b) =      c) =      d) <

7. a) 10 920      b) 663 (dư 8)

8. 13 017 người

9\*. *Hướng dẫn:*

Cách 1: Mua 1 đôi giày, 1 chiếc vợt và 6 quả cầu lông.

Cách 2: Mua 1 đôi giày, 1 đôi vợt và 2 quả cầu lông.

### ĐỀ SỐ 14

3. a)  $y = 768$       b)  $y = 1729$

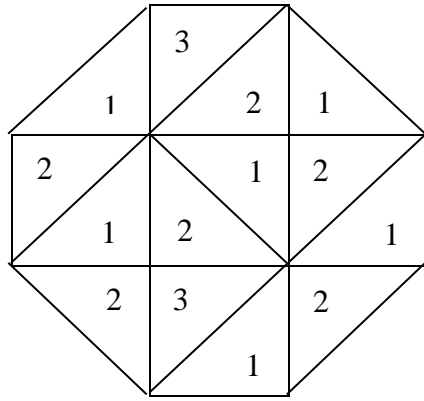
4. a) S      b) S      c) Đ

5. a) <      b) <      c) >

7\*. a)  $7 \times (2140 - 179) + 1484 = 7 \times 1961 + 1484 = 13727 + 1484 = 15211$

b) 3216

9\*. *Trả lời:* Cần ít nhất 3 màu khác nhau. Xem hình vẽ:



### ĐỀ SỐ 15

1.  $7224\text{kg} - 903\text{kg} - 888\text{kg} - 2664\text{kg}$

3. a)  $5190\text{cm}^2$       b)  $3800\text{cm}^2$       c)  $267\text{cm}^2$       d)  $131\text{cm}^2$

4. a) Có 9 số có bốn chữ số giống nhau, là các số: 1111, 2222, 3333, 4444, 5555, 6666, 7777, 8888, 9999.

b) 1062

7\*.  $764\text{m}$

8\*.  $y = 2109$

9\*. Khi cuốn sách bị xé một trang thì cũng bị xé mất trang liền kề nó. Vì vậy số trang của cuốn sách đã bị xé là:  $3 \times 2 = 6$  (trang)

Vậy số trang còn lại của cuốn sách đó là:  $90 - 6 = 84$  (trang)